

COMUNE DI PADOVA

ISTRUTTORE AMMINISTRATIVO

Giulio Casom

QUESTIONARIO 1

001. Nella legge sul procedimento amministrativo vige:

- A) Il divieto di agire secondo le norme di diritto privato.
 B) Il divieto di aggravare il procedimento se non per straordinarie e motivate esigenze imposte dallo svolgimento dell'istruttoria.
 C) Il divieto di compiere accertamenti tecnici ed ispezioni.

002. A norma del disposto di cui all'art. 42, Tuel, l'istituzione e l'ordinamento dei tributi, con esclusione della determinazione delle relative aliquote, sono atti fondamentali:

- A) Del consiglio comunale.
 B) Del segretario dell'ente o se nominato del direttore generale.
 C) Della giunta comunale.

003. Dispone l'art. 39 del CCNL del comparto Funzioni locali che possono essere concessi ai dipendenti con rapporto di lavoro a tempo indeterminato periodi di aspettativa per esigenze personali o di famiglia. Nel periodo di aspettativa al dipendente è dovuta la retribuzione?

- A) No. B) Sì, è prevista la retribuzione pari al 50%. C) Sì, è prevista l'intera retribuzione.

004. La liquidazione della spesa:

- A) È la prima fase del procedimento di spesa, con la quale, a seguito di obbligazione giuridicamente perfezionata è determinata la somma da pagare, determinato il soggetto creditore, indicata la ragione e la relativa scadenza e viene costituito il vincolo sulle previsioni di bilancio, nell'ambito della disponibilità finanziaria accertata ai sensi dell'articolo 151.
 B) Costituisce la fase del procedimento di spesa attraverso la quale in base ai documenti ed ai titoli atti a comprovare il diritto acquisito del creditore, si determina la somma certa e liquida da pagare nei limiti dell'ammontare dell'impegno definitivo assunto.
 C) Consiste nel materiale introito da parte del tesoriere o di altri eventuali incaricati della riscossione delle somme dovute all'ente.

005. Decesso del discendente, situazione economica, esami sostenuti. Nei rapporti con la P.A. quale/quali tra i citati stati, fatti, qualità personali possono essere comprovati con dichiarazione sostitutiva di certificazione?

- A) Tutti quelli citati. B) Solo la situazione economica. C) Solo gli esami sostenuti.

006. I compiti dei Comuni per servizi di competenza statale sono elencati al comma 1, art. 14 Tuel, tra i quali non è previsto:

- A) Servizi Sociali. B) Stato civile. C) Anagrafe.

007. L'affidamento e l'esecuzione di lavori, servizi e forniture devono avvenire secondo i principi enunciati all'art. 30 del Codice dei contratti pubblici. In applicazione di quale principio le stazioni appaltanti devono garantire l'uso ottimale delle risorse da impiegare nello svolgimento della selezione ovvero nell'esecuzione del contratto?

- A) In applicazione del principio di trasparenza e pubblicità.
 B) In applicazione del principio di economicità.
 C) In applicazione del principio di correttezza.

008. Ai sensi dell'art. 5, D.Lgs. n. 33/2013, l'amministrazione cui è indirizzata la richiesta di accesso, se individua soggetti controinteressati è tenuta a dare comunicazione agli stessi?

- A) No, per espressa previsione del citato articolo.
 B) Sì, mediante invio di copia con raccomandata con avviso di ricevimento, o per via telematica per coloro che abbiano consentito tale forma di comunicazione.
 C) Sì, ma il citato D.Lgs. nulla dispone in merito.

009. In Microsoft Word 2010, premendo insieme i tasti "CTRL" + "D":

- A) È possibile inserire data ed ora. B) Si accede al menù "Carattere". C) È possibile modificare le dimensioni del foglio.

010. Individuare tra i seguenti il sillogismo che conduce ad una falsa conclusione.

- A) Tutti i Tedeschi mettono i sandali con le calze. Frank è tedesco, quindi mette i sandali con le calze.
 B) Tutti gli Americani masticano chewing-gum. Antony è americano, quindi mastica chewing-gum.
 C) Tutti gli Italiani mangiano la pasta. Luca mangia la pasta quindi Luca è italiano.

011. Il quadruplo di quale numero, aumentato di 23 è uguale a 99?

- A) 20. B) 18. C) 19.

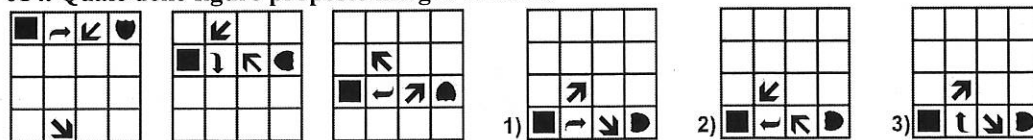
012. Completare la seguente proporzione: Y (democrazia) : X (governo di cittadini) = Y (...?...): X (...?...).

- A) Y (aristocrazia) : X (potere assoluto del sovrano).
 B) Y (aristocrazia) : X (prevalere dei tecnici).
 C) Y (aristocrazia) : X (governo di nobili).

013. Quale dei seguenti termini può sostituire la parola "eccepire" senza modificare il significato della frase ove essa è inserita?

- A) Consentire. B) Contestare. C) Asserire.

014. Quale delle figure proposte integra la serie?



- A) La figura indicata con il numero 2. B) La figura indicata con il numero 3. C) La figura indicata con il numero 1.

015. "Stefano è appassionato di giardinaggio; tutti gli appassionati di giardinaggio amano la natura; alcuni floricoltori sono appassionati di giardinaggio". Se le precedenti affermazioni sono vere, quale delle seguenti è sicuramente vera?

- A) Tutti i floricoltori amano la natura. B) Stefano ama la natura. C) Stefano è un floricoltore.

016. Il delfino non va d'accordo con il pesce spada, ma va d'accordo con il tonno. Il pesce spada non va d'accordo con il tonno. Il tonno va d'accordo con il totano ma non con il pesce spada. Il totano va d'accordo con il delfino ma non con lo sgombro. Tra i tre animali di seguito proposti:
 A) Il tonno è quello che va d'accordo con il maggior numero di animali rispetto agli altri.
 B) Lo sgombro è quello che va d'accordo con il maggior numero di animali rispetto agli altri.
 C) Il pesce spada è quello che va d'accordo con il maggior numero di animali rispetto agli altri.

017. Nel gennaio '18 Zoe pesava 65 kg. Nel marzo '18 pesava 5 kg in meno rispetto al gennaio '18. Nel maggio '18 pesava 2 kg in più rispetto al marzo '18. Nel luglio '18 pesava 3 kg in più rispetto al maggio '18. Nell'ottobre '18 pesava 1 kg in meno rispetto al luglio '18. Nel dicembre '18 pesava mezzo chilo in più rispetto all'ottobre '18. Quanto pesava Zoe nel dicembre '18?
 A) 65,5 kg. B) 64,5 kg. C) 63,5 kg.

018. Mettere tra parentesi la parola che assume un significato che può essere ricondotto per analogia sia al termine che precede che a quello che segue: Fatto (?) Venditore.
 A) Composto. B) Commesso. C) Autista.

019. Utilizzando Microsoft Excel, la cella A1 contiene la formula "=B1+BS2", le celle B1 e B2 contengono i valori 5 e 7. Se copio la cella A1 e la incollo nella cella A2 che valore visualizzerà la cella A2?
 A) 14. B) 12. C) 10.

020. "Collier" sta a "..?.." come "Asciugamano" sta a "..?..".
 A) Gioiello - Biancheria. B) Collo - Testa. C) Gioiello - Bagno.

021. Serena: "My daughter's been promoted to General Manager." Tom: "_____? You must be so proud!"
 A) Hasn't she. B) Had she. C) Has she.

022. "Mare" sta a "Sandalo" come "Montagna" sta a "..?..".
 A) Scarpone. B) Stivale. C) Mocassino.

023. Can I give you _____ advice?
 A) Some. B) Much. C) A lot.

024. Ad un tavolo rettangolare sono seduti Playmaker (1), Guardia Tiratrice (2), Ala Piccola (3), Ala Grande (4), Pivot (5) e Allenatore (6) di una squadra di basket (2 da un lato, 2 dall'altro e 2 capotavola). Le due Ali siedono a capotavola; la Guardia Tiratrice siede all'immediata sinistra dell'Ala Grande, mentre il Pivot siede all'immediata destra dell'Ala Piccola; quindi siede sullo stesso lato dell'Allenatore:
 A) Pivot. B) Guardia Tiratrice. C) Playmaker.

025. Individuare la figura che completa logicamente la griglia.

A

B

C

A) Figura C. B) Figura B. C) Figura A.

026. Quale delle figure proposte integra la serie?

1)

2)

3)

A) La figura indicata con il numero 3. B) La figura indicata con il numero 2. C) La figura indicata con il numero 1.

027. Una collezione di libri rari è composta complessivamente da 384 libri, 64 per ogni ripiano. 32 libri di ogni ripiano sono opere di letteratura popolare, i restanti sono opere di storie cavalleresche. Quanti libri di opere di storie cavalleresche contiene la collezione?
 A) 192. B) 194. C) 193.

028. Indicare in quale riquadro sono contenute le figure 1 e 2 dopo essere state ruotate e sovrapposte.

1

2

a

b

c

A) Riquadro b. B) Riquadro a. C) Riquadro c.

029. Quale dei seguenti numeri eliminerebbe? 21 - 56 - 231 - 22 - 182.
 A) 22. B) 56. C) 231.

030. Indicare quale gruppo di lettere, premesso in sequenza ai termini proposti, determina parole di senso compiuto.
 asso - rano - elle - ato - riva.
 A) T - G - N - Z - P. B) N - S - C - V - P. C) P - G - S - N - P.

COMUNE DI PADOVA

ISTRUTTORE AMMINISTRATIVO

GRIGLIA RISPOSTE ESATTE: QUESTIONARIO: 1

1	B
2	A
3	A
4	B
5	A
6	A
7	B
8	B
9	B
10	C

11	C
12	C
13	B
14	B
15	B
16	A
17	B
18	B
19	A
20	A

21	C
22	A
23	A
24	C
25	A
26	C
27	A
28	B
29	A
30	C

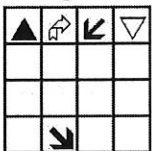
QUESTIONARIO: 1

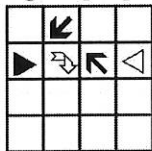
COMUNE DI PADOVA

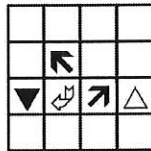
ISTRUTTORE AMMINISTRATIVO

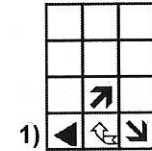
Luca Amadori

QUESTIONARIO 2

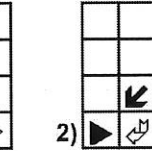
- 001. Ai sensi dell'art. 5, D.Lgs. n. 33/2013, il rifiuto, il differimento e la limitazione dell'accesso civico devono essere motivati?**
 A) No, deve essere motivato solo il rifiuto.
 B) No, deve essere motivato solo il differimento.
 C) Sì, devono essere motivati il rifiuto, il differimento e la limitazione.
- 002. Quale validità hanno, di norma, i certificati aventi ad oggetto stati, qualità personali e fatti soggetti a modificazione nel tempo?**
 A) Un anno dalla data del rilascio. B) Tre mesi dalla data del rilascio. C) Sei mesi dalla data del rilascio.
- 003. In attuazione della legge n. 241/1990, l'amministrazione provvede a dare notizia dell'avvio del procedimento amministrativo mediante comunicazione personale, indicando, tra l'altro:**
 A) Il nominativo di tutte le persone interessate al procedimento.
 B) Le tipologie di atti di cui è possibile prendere visione.
 C) L'ufficio e la persona responsabile del procedimento.
- 004. Quale tra le seguenti fasi della procedura ad evidenza pubblica viene per prima rispetto alle altre?**
 A) Aggiudicazione e stipula del contratto. B) Scelta del contraente. C) Approvazione ed eventuali controlli.
- 005. A norma del disposto di cui all'art. 42, Tuel, la disciplina generale delle tariffe per la fruizione dei beni e dei servizi è atto fondamentale:**
 A) Della giunta comunale.
 B) Del consiglio comunale.
 C) Del segretario dell'ente o se nominato del direttore generale.
- 006. I compiti dei Comuni per servizi di competenza statale sono elencati al comma 1, art. 14 Tuel, tra i quali non è previsto:**
 A) Vigilanza sul commercio. B) Servizi elettorali. C) Anagrafe.
- 007. A norma di quanto prevede l'art. 36 del CCNL del comparto Funzioni locali, il dipendente non in prova assente per malattia ha diritto alla conservazione del posto?**
 A) No. B) Sì, per un periodo di tre mesi. C) Sì, per un periodo di diciotto mesi.
- 008. L'impegno di spesa:**
 A) Costituisce la fase del procedimento di spesa attraverso la quale in base ai documenti ed ai titoli atti a comprovare il diritto acquisito del creditore, si determina la somma certa e liquida da pagare nei limiti dell'ammontare dell'impegno definitivo assunto.
 B) Costituisce la prima fase del procedimento di spesa, con la quale, a seguito di obbligazione giuridicamente perfezionata è determinata la somma da pagare, determinato il soggetto creditore, indicata la ragione e la relativa scadenza e viene costituito il vincolo sulle previsioni di bilancio, nell'ambito della disponibilità finanziaria accertata ai sensi dell'articolo 151.
 C) Consiste nel trasferimento delle somme riscosse nelle casse dell'ente.
- 009. I really think you shouldn't promise to stop drinking if you are not _____ to follow a serious rehab programme.**
 A) Prepared. B) Being suitabled. C) Adapted.
- 010. Quale dei seguenti numeri eliminerebbe? 161 - 266 - 287 - 112 - 57.**
 A) 161. B) 266. C) 57.
- 011. Quale delle figure proposte integra la serie?**
- 



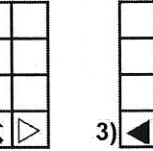




1)



2)



3)
- A) La figura 2). B) La figura 1). C) La figura 3).
- 012. Quale dei seguenti termini può sostituire la parola "intonso" senza modificare il significato della frase ove essa è inserita?**
 A) Intatto. B) Menomato. C) Consumato.
- 013. Micol pesa 56 kg; Mila pesa 5 kg in meno rispetto a Micol; Mirta pesa 8 kg in più rispetto a Mila e Marta pesa 3 kg in meno rispetto a Mirta. Il peso di Marta è:**
 A) 57 kg. B) 56 kg. C) 58 kg.
- 014. Se si moltiplica un numero per la differenza tra 27 e 19 si ottiene 232. Il numero è:**
 A) 27. B) 29. C) 31.
- 015. Good morning. I'm calling _____ reference to a cheque I have just received.**
 A) In. B) On. C) About.
- 016. Completare la seguente proporzione: Y (suicidio) : X (se stessi) = Y (...?...): X (...?...).**
 A) Y (fratricidio) : X (padre). B) Y (fratricidio) : X (intero popolo). C) Y (fratricidio) : X (fratello).
- 017. Individuare tra i seguenti il sillogismo che conduce ad una falsa conclusione.**
 A) Tutti i miei colleghi adorano il sushi. Carlo è un mio collega, quindi adora il sushi.
 B) Tutte le mie sorelle ricamano. Tania è mia sorella, quindi Tania ricama.
 C) Tutti i miei amici giocano a basket. Mario gioca a basket, quindi Mario è mio amico.

018. In un hotel tre sono le addette alla pulizia delle stanze. Alla prima ne sono assegnate i sei decimi del totale, alla seconda i 3 quindicesimi e le restanti 8 stanze sono assegnate alla terza. Quante stanze ha in totale l'hotel?

- A) 40 stanze. B) 50 stanze. C) 30 stanze.

019. Ad un tavolo tondo siedono: Bruna, Lapo, Sonia, Gaia e Furio. Se Bruna non è accanto a Gaia e Lapo è tra Sonia e Bruna, di conseguenza Furio:

- A) È fra due donne. B) È fra Bruna e Sonia. C) È vicino a Lapo.

020. "Riccio" sta a "...?" come "mallo" sta a "...?".

- A) Castagna - Noce. B) Nocciolo - Guscio. C) Castagna - Buccia.

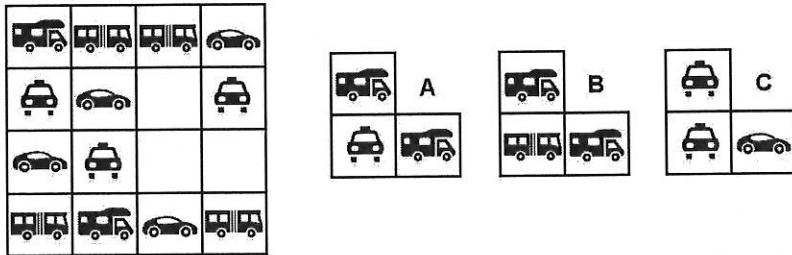
021. "Margherita è appassionata di fotografia; tutti gli appassionati di fotografia non amano la natura; tutti i fotografi sono professionisti". Se le precedenti affermazioni sono vere, quale delle seguenti è sicuramente vera?

- A) Margherita è un fotografo.
B) Margherita non ama la natura.
C) Chi non ama la natura è sicuramente appassionato di fotografia.

022. Il pavone non va d'accordo con il pettirosso, ma va d'accordo con l'usignolo. Il pettirosso non va d'accordo con l'usignolo. L'usignolo va d'accordo con il gufo ma non con il pettirosso. Il gufo va d'accordo con il pavone ma non con il falco. Tra i tre animali di seguito proposti:

- A) Il pettirosso è quello che va d'accordo con il maggior numero di animali rispetto agli altri.
B) Il falco è quello che va d'accordo con il maggior numero di animali rispetto agli altri.
C) L'usignolo è quello che va d'accordo con il maggior numero di animali rispetto agli altri.

023. Individuare la figura che completa logicamente la griglia.



- A) Figura A. B) Figura C. C) Figura B.

024. "...?" sta a "Televisore" come "...?" sta a "Radio".

- A) Immagine - suono. B) Suono - video. C) Teatro - rumore.

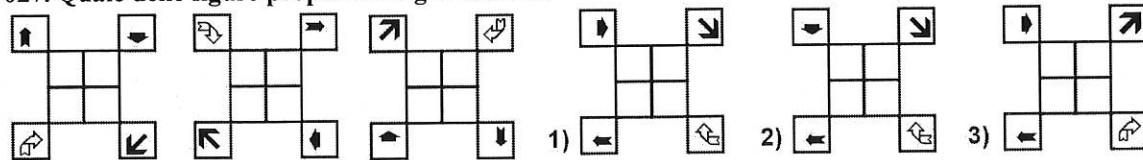
025. In Microsoft Excel che cosa è una macro?

- A) Una serie di azioni che vengono registrate come una sequenza richiamabile di comandi.
B) È un'operazione che coinvolge una grande quantità di dati.
C) È una voce di menù per impostare dei parametri del foglio attivo.

026. Il software Microsoft Word permette di modificare le «impostazioni di pagina». In che cosa consiste tale operazione?

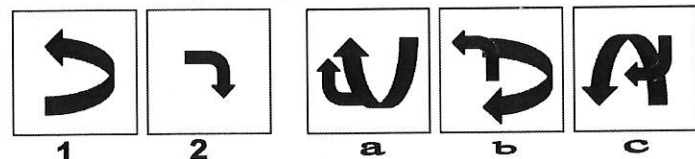
- A) Nella modifica dei parametri del testo per la stampa.
B) Nella modifica del font di caratteri del testo.
C) Nella modifica delle caratteristiche della pagina quali i margini, l'orientamento, la dimensione, ecc.

027. Quale delle figure proposte integra la serie?



- A) La figura 2). B) La figura 3). C) La figura 1).

028. Indicare in quale riquadro sono contenute le figure 1 e 2 dopo essere state ruotate e sovrapposte.



- A) Riquadro a. B) Riquadro c. C) Riquadro b.

029. Mettere tra parentesi la parola che assume un significato che può essere ricondotto per analogia sia al termine che precede che a quello che segue:

- Piatto (?) Programma.
A) Banco. B) Piano. C) Pietanza.

030. Indicare quale gruppo di lettere, premesso in sequenza ai termini proposti, determina parole di senso compiuto.

- asso - rado - elle - ato - alla.
A) N - G - P - M - A. B) C - B - C - F - C. C) S - F - T - N - N.

COMUNE DI PADOVA

ISTRUTTORE AMMINISTRATIVO

GRIGLIA RISPOSTE ESATTE: QUESTIONARIO: 2

1	C
2	C
3	C
4	B
5	B
6	A
7	C
8	B
9	A
10	C

11	B
12	A
13	B
14	B
15	A
16	C
17	C
18	A
19	A
20	A

21	B
22	C
23	A
24	A
25	A
26	C
27	C
28	B
29	B
30	B

QUESTIONARIO: 2

COMUNE DI PADOVA

ISTRUTTORE AMMINISTRATIVO

Reshaef Sykes

QUESTIONARIO 4

001. L'accertamento costituisce:

- A) La prima fase di gestione dell'entrata mediante la quale, sulla base di idonea documentazione, viene verificata la ragione del credito e la sussistenza di un idoneo titolo giuridico, individuato il debitore, quantificata la somma da incassare, nonché fissata la relativa scadenza.
- B) La prima fase del procedimento di spesa, con la quale, a seguito di obbligazione giuridicamente perfezionata è determinata la somma da pagare, determinato il soggetto creditore, indicata la ragione e la relativa scadenza e viene costituito il vincolo sulle previsioni di bilancio, nell'ambito della disponibilità finanziaria accertata ai sensi dell'articolo 151.
- C) La fase del procedimento di spesa attraverso la quale in base ai documenti ed ai titoli atti a comprovare il diritto acquisito del creditore, si determina la somma certa e liquida da pagare nei limiti dell'ammontare dell'impegno definitivo assunto.

002. Nascita del figlio, decesso del coniuge, esistenza in vita. Nei rapporti con la P.A. quale/quali tra i citati stati, fatti, qualità personali possono essere comprovati con dichiarazione sostitutiva di certificazione?

- A) Tutti quelli citati.
- B) Solo la nascita del figlio.
- C) Solo il decesso del coniuge.

003. I compiti dei Comuni per servizi di competenza statale sono elencati al comma 1, art. 14 Tuel, tra i quali è previsto:

- A) Stato civile.
- B) Servizi sociali.
- C) Pianificazione urbanistica.

004. Durante il periodo di godimento del permesso retribuito (art. 31, CCNL comparto Funzioni locali) al dipendente:

- A) Spetta l'intera retribuzione.
- B) Spettano anche i compensi per le prestazioni di lavoro straordinario anche se non svolte.
- C) Spetta il 40% della retribuzione.

005. Il Tuel distingue tra funzioni svolte dal sindaco come capo/rappresentante dell'amministrazione comunale e funzioni svolte come ufficiale del governo. Indicare quale funzione, ai sensi dell'art. 50, Tuel, è svolta dal sindaco come capo/rappresentante dell'amministrazione comunale.

- A) Sovrintendere agli adempimenti demandatigli dalle leggi in materia elettorale.
- B) Sovrintendere al funzionamento dei servizi e degli uffici e all'esecuzione degli atti.
- C) Sovrintendere alla vigilanza su tutto quanto possa interessare la sicurezza e l'ordine pubblico, informandone preventivamente il prefetto.

006. A norma di quanto dispone il Codice dei contratti pubblici in quale momento le stazioni appaltanti individuano gli elementi essenziali del contratto?

- A) Prima dell'avvio delle procedure di affidamento.
- B) Immediatamente prima della stipula del contratto.
- C) Dopo l'avvio delle procedure di affidamento.


007. Con riferimento alle norme sul procedimento amministrativo, chi cura le comunicazioni, le pubblicazioni e le notificazioni previste dalle leggi e dai regolamenti (comma 1, lett. d), art. 6 l. n. 241/1990)?

- A) Il responsabile del procedimento.
- B) Il responsabile dell'ufficio tecnico.
- C) Il responsabile dell'ufficio di ragioneria.

008. Ai sensi dell'art. 5, D.Lgs. n. 33/2013, il rilascio di dati o documenti in formato elettronico o cartaceo:

- A) È di norma gratuito, salvo che l'amministrazione non disponga diversamente.
- B) È sempre a titolo oneroso.
- C) È gratuito, salvo il rimborso del costo effettivamente sostenuto e documentato dall'amministrazione per la riproduzione su supporti materiali.

009. Indicare in quale riquadro sono contenute le figure 1 e 2 dopo essere state ruotate e sovrapposte.



- A) Riquadro c.
- B) Riquadro a.
- C) Riquadro b.

010. Utilizzando Microsoft Excel, che differenza c'è tra il "copia e incolla" e il "copia e incolla valori"?

- A) Il "copia e incolla valori" si usa quando la cella copiata non contiene formule.
- B) Il "copia e incolla valori" serve per copiare le celle contenenti valori numerici e non stringhe.
- C) Nel "copia e incolla valori" viene incollato solo il valore della cella copiata ignorando eventuali formule in essa contenute.

011. È possibile inserire un'immagine in un documento di Word?

- A) Sì, selezionando Immagine dal menù Inserisci.
- B) No, si possono solo inserire dei testi.
- C) Si può solo incollando un'immagine dagli appunti.

012. Il leone non va d'accordo con il rinoceronte, ma va d'accordo con il puma. Il rinoceronte non va d'accordo con il puma. Il puma va d'accordo con il coccodrillo ma non con il rinoceronte. Il coccodrillo va d'accordo con il leone ma non con la zebra. Tra i tre animali di seguito proposti:

- A) La zebra è quella che va d'accordo con il maggior numero di animali rispetto agli altri.
- B) Il puma è quello che va d'accordo con il maggior numero di animali rispetto agli altri.
- C) Il rinoceronte è quello che va d'accordo con il maggior numero di animali rispetto agli altri.

013. Se il numero 18 lo si divide per 90 e poi lo si moltiplica per 360 si ottiene:

- A) 74.
- B) 70.
- C) 72.

014. Quale dei seguenti numeri eliminerebbe? 540 - 506 - 264 - 33 - 517.

- A) 540.
- B) 506.
- C) 264.

015. 1) Tutti gli insegnanti sono professori. 2) Alcuni insegnanti di inglese conoscono la lingua francese. 3) Augusto è un insegnante di inglese. Se le precedenti affermazioni sono vere, quale delle seguenti è sicuramente vera?

- A) Sicuramente Augusto conosce la lingua francese.
- B) Non è detto che Augusto conosca la lingua francese.
- C) Non è certo che Augusto sia un professore.

016. Complete the following sentence with the correct preposition. Cheer _____! Don't worry! We'll sort it out!
 A) Down. B) On. C) Up.

017. Quale dei seguenti termini può sostituire la parola "affastellare" senza modificare il significato della frase ove essa è inserita?
 A) Ghermire. B) Sparpagliare. C) Ammassare.

018. La F&G Corporation ha 25 dipendenti. Questa mattina alle macchinette sono state prese 15 merendine e 16 caffè. Sapendo che 11 dipendenti hanno preso una merendina e un caffè, quanti sono coloro che non hanno preso nulla?
 A) 4. B) 5. C) 0.

019. The gardener came yesterday to the garden and tidy up.
 A) Water. B) Dampen. C) Wet.

020. Per la sua festa di carnevale Cecilia noleggia alcune maschere. I quattro quinti delle maschere sono di Pulcinella, i 13/75 sono maschere di Colombina e 10 sono maschere di Pantalone. Quante maschere noleggia Cecilia?
 A) 375. B) 353. C) 365.

021. Quale delle figure proposte integra la serie?

1) 2) 3)

A) La figura indicata con il numero 2. B) La figura indicata con il numero 3. C) La figura indicata con il numero 1.

022. Mettere tra parentesi la parola che assume un significato che può essere ricondotto per analogia sia al termine che precede che a quello che segue: Soprannominato (?) Proverbio.
 A) Motto. B) Detto. C) Saggio.

023. Ad una conferenza internazionale un nizzardo(1), un madrilenno (2), un romano (3), un londinese (4), un moscovita (5) e un parigino (6) siedono ad una tavola rettangolare (2 da un lato, 2 dall'altro e 2 capotavola). Sapendo che né il romano, né il parigino siedono a capotavola, che il madrilenno è di fronte al parigino, il romano è di fronte al nizzardo, posso concludere che a capotavola:
 A) Non siede l'inglese. B) Siede il nizzardo. C) Vi è il londinese.

024. "Scarpa" sta a "..?.." come "..?.." sta a "Testa".
 A) Piede - Cappello. B) Stivale - Capelli. C) Cuoio - Lana.

025. Indicare quale gruppo di lettere, premesso in sequenza ai termini proposti, determina parole di senso compiuto.
 asso - cero - elle - ato - alla.
 A) P - P - V - L - S. B) M - A - P - L - P. C) S - F - S - P - F.

026. Individuare tra i seguenti il sillogismo che conduce ad una falsa conclusione.
 A) Tutti i pranzi di lavoro sono impegnativi. Quello di ieri era un pranzo di lavoro, quindi è stato un pranzo impegnativo.
 B) Tutte le cene di Natale sono noiose. La cena di ieri sera era noiosa, quindi era una cena di Natale.
 C) Tutti gli aperitivi tra colleghi sono divertenti. Quello di ieri sera era un aperitivo tra colleghi, quindi è stato un aperitivo divertente.

027. Completare la seguente proporzione: Y (democrazia) : X (governo di cittadini) = Y (...?...) : X (...?...).
 A) Y (autocrazia) : X (potere assoluto del sovrano).
 B) Y (autocrazia) : X (potere nelle mani di pochi).
 C) Y (autocrazia) : X (potere esercitato in nome della divinità).

028. "Sci" stanno a "Montagna" come....
 A) "Pinne" stanno a "Mare". B) "Città" sta a "Mocassino". C) "Neve" sta a "Racchette".

029. Individuare la figura che completa logicamente la griglia.

A) Figura B. B) Figura C. C) Figura A.

030. Quale delle figure proposte integra la serie?

1) 2) 3)

A) La figura indicata con il numero 3. B) La figura indicata con il numero 1. C) La figura indicata con il numero 2.

COMUNE DI PADOVA

**ISTRUTTORE
AMMINISTRATIVO**

GRIGLIA RISPOSTE ESATTE: QUESTIONARIO: 4

1	A
2	A
3	A
4	A
5	B
6	A
7	A
8	C
9	C
10	C

11	A
12	B
13	C
14	A
15	B
16	C
17	C
18	B
19	A
20	A

21	A
22	B
23	C
24	A
25	B
26	B
27	A
28	A
29	C
30	A

QUESTIONARIO: 4

**COMUNE DI
PADOVA**

**ISTRUTTORE
AMMINISTRATIVO**

Lawatello

QUESTIONARIO 5

001. Se l'amministrazione aggiudicatrice decide di avvalersi della procedura ristretta di cui all'art. 61 del Codice dei contratti pubblici:

- A) Solo gli operatori individuati dall'amministrazione aggiudicatrice possono presentare un'offerta.
- B) Solo gli operatori qualificati possono presentare direttamente l'offerta senza previa domanda di partecipazione.
- C) Qualsiasi operatore economico interessato può presentare un'offerta.

002. L'art. 5 del D.Lgs. n. 33/2013, dispone che il procedimento di accesso civico deve concludersi:

- A) Entro 15 giorni dalla presentazione dell'istanza.
- B) Con provvedimento espresso e motivato.
- C) Con provvedimento non motivato.

003. A norma di quanto prevede l'art. 31 del CCNL del comparto Funzioni locali, quanti giorni di permesso retribuito sono concessi al dipendente in occasione del proprio matrimonio?

- A) Quindici giorni consecutivi, da fruire entro un anno dalla data del matrimonio.
- B) Quindici giorni consecutivi, da fruire entro 45 giorni dalla data del matrimonio.
- C) Trenta giorni consecutivi, da fruire entro 45 giorni dalla data del matrimonio.

004. I certificati rilasciati dalle P.A. attestanti stati, qualità personali e fatti soggetti a modificazioni hanno di norma validità di sei mesi. Quale certificato ha validità limitata?

- A) Certificato di titolo di studio.
- B) Godimento dei diritti politici.
- C) Estratto di morte.

005. Quale dei servizi indicati è compito del Comune per servizi di competenza statale (art. 14 Tuel)?

- A) Mercati.
- B) Servizi elettorali.
- C) Servizi per il turismo.

006. A norma del disposto di cui all'art. 42, Tuel, il consiglio comunale partecipa alla definizione e all'adeguamento delle linee programmatiche da parte del Sindaco e dei singoli assessori?

- A) No, partecipa solo alla verifica periodica dell'attuazione delle linee programmatiche.
- B) Sì, partecipa alla definizione, all'adeguamento e alla verifica periodica dell'attuazione delle linee programmatiche.
- C) No, stante il principio di separazione tra funzioni di politica e gestione.

007. La struttura del bilancio di previsione parte spesa è composta da (art. 165 Tuel):

- A) Missioni, tipologie e titoli.
- B) Missioni, programmi e titoli.
- C) Missioni, tipologie e macroaggregati.

008. Con riferimento alle norme sul procedimento amministrativo chi adotta ogni misura per l'adeguato e sollecito svolgimento dell'istruttoria, (art. 6 l. n. 241/1990)?

- A) Il responsabile dell'ufficio tecnico.
- B) Il responsabile del procedimento.
- C) Il responsabile dell'ufficio di ragioneria.


009. Indicare quale gruppo di lettere, premesso in sequenza ai termini proposti, determina parole di senso compiuto.
rano - agro - ala - alla - pala.

- A) U - M - S - Z - S.
- B) B - P - P - N - S.
- C) E - M - M - C - S.

010. "...?.." sta a "Biancheria" come "Papalina" sta a "...?..".

- A) Capo - Testa.
- B) Sotto - Capo abbigliamento.
- C) Pigiama - Cappello.

011. Indicare in quale riquadro sono contenute le figure 1 e 2 dopo essere state ruotate e sovrapposte.



- A) Riquadro b.
- B) Riquadro c.
- C) Riquadro a.

012. Mettere tra parentesi la parola che assume un significato che può essere ricondotto per analogia sia al termine che precede che a quello che segue:
Torace (?) Corsetto.

- A) Sterno.
- B) Spalle.
- C) Busto.

013. Choose the correct option. You should go home. It's late and your parents ____.

- A) Will be worrying.
- B) Will be worry.
- C) Have worried.

014. "Zucchero" sta a "Zuccheriera" come....

- A) "Tè" sta a "Teiera".
- B) "Latte" sta a "Teiera".
- C) "Caffettiera" sta a "Caffè".

015. Nelle formule di Microsoft Excel cosa fa l'operatore "&"?

- A) Blocca il valore di una cella in caso di copia e incolla di una formula.
- B) Concatena due stringhe di valori.
- C) Restituisce il valore numerico di una cella di testo.

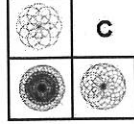
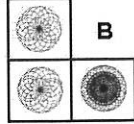
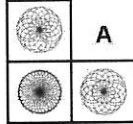
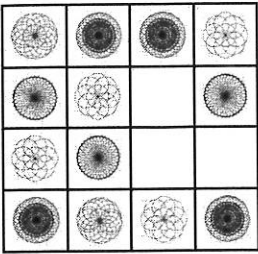
016. Complete the sentence with the correct preposition (referring to the context). My flight was called (...) so I had to spend four hours at the airport.

- A) Down.
- B) Off.
- C) By.

017. Quale dei seguenti numeri eliminerebbe? 221 - 341 - 231 - 528 - 429.

- A) 231.
- B) 221.
- C) 341.

018. Individuare la figura che completa logicamente la griglia.



A) Figura A.

B) Figura B.

C) Figura C.

019. Se si moltiplica un numero per la differenza tra 26 e 14 si ottiene 288. Il numero è:

A) 26.

B) 24.

C) 22.

020. Quale dei seguenti termini può sostituire la parola "blandizie" senza modificare il significato della frase ove essa è inserita?

A) Lusinghe.

B) Empio.

C) Maltrattamenti.

021. Ad un tavolo tondo siedono: Bruna, Lapo, Sonia, Gaia e Furio. Se Bruna non è accanto a Gaia e Lapo è tra Sonia e Bruna, di conseguenza Furio:

A) È tra due uomini.

B) È subito a destra di Sonia.

C) È fra Bruna e Gaia.

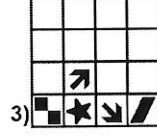
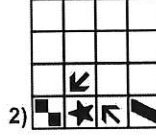
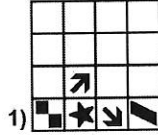
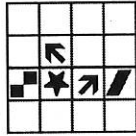
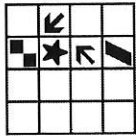
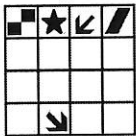
022. In un documento di word quanti tipi di font o tipo di carattere posso utilizzare?

A) Un numero indefinito di font.

B) Solo uno per tutto il testo.

C) Un font per ogni paragrafo.

023. Quale delle figure proposte integra la serie?

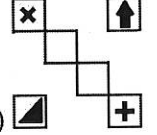
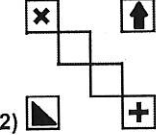
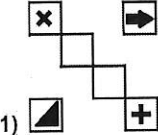
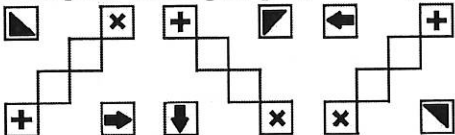


A) La figura indicata con il numero 3.

B) La figura indicata con il numero 2.

C) La figura indicata con il numero 1.

024. Quale delle figure proposte integra la serie?



A) La figura indicata con il numero 1.

B) La figura indicata con il numero 3.

C) La figura indicata con il numero 2.

025. Il colibrì non va d'accordo con il coleottero, ma va d'accordo con il grillo. Il coleottero non va d'accordo con il grillo. Il grillo va d'accordo con la falena ma non con il coleottero. La falena va d'accordo con il colibrì ma non con la zanzara. Tra i tre animali di seguito proposti:

A) Il grillo è quello che va d'accordo con il maggior numero di animali rispetto agli altri.

B) Il coleottero è quello che va d'accordo con il maggior numero di animali rispetto agli altri.

C) La zanzara è quella che va d'accordo con il maggior numero di animali rispetto agli altri.

026. Per la funicolare di Borgo di Sopra sono disponibili anche i seguenti abbonamenti: mensile a euro 41,50; trimestrale a euro 108 e annuale a euro 410. Quanto si risparmia mensilmente se si acquista l'abbonamento annuale rispetto a quello mensile?

A) Circa 8,20 Euro.

B) Circa 7,33 Euro.

C) Circa 6,70 Euro.

027. Completare la seguente proporzione: Y (monarchia) : X (governo di uno solo) = Y (...?...): X (...?...).

A) Y (tecnocrazia) : X (potere nelle mani di pochi).

B) Y (tecnocrazia) : X (potere esercitato in nome della divinità).

C) Y (tecnocrazia) : X (prevalere dei tecnici).

028. "Luca è appassionato di caccia; alcuni appassionati di caccia sono cacciatori; i cacciatori non amano la natura". Se le precedenti affermazioni sono vere, quale delle seguenti è sicuramente vera?

A) Luca è sicuramente un cacciatore.

B) Luca non ama sicuramente la natura.

C) Luca potrebbe essere un cacciatore.

029. Cristina prepara dei dolci per una festa di beneficenza: un nono sono crostate, 5 ventisettesimi sono pan di Spagna farciti e 38 sono bavanesi. Quanti dolci ha preparato in totale Cristina?

A) 54.

B) 58.

C) 64.

030. Individuare tra i seguenti il sillogismo che conduce ad una falsa conclusione.

A) Se sei nato ad Agosto, sei una persona solare. Hector è nato ad Agosto, quindi è una persona solare.

B) Se sei nato ad Aprile, sei una persona fortunata. Rita è una persona fortunata, quindi è nata ad Aprile.

C) Se sei nato a Maggio, sei una persona sensibile. Gino è nato a Maggio, quindi è una persona sensibile.

COMUNE DI PADOVA

**ISTRUTTORE
AMMINISTRATIVO**

GRIGLIA RISPOSTE ESATTE: QUESTIONARIO: 5

1	A
2	B
3	B
4	B
5	B
6	B
7	B
8	B
9	C
10	C

11	B
12	C
13	A
14	A
15	B
16	B
17	B
18	A
19	B
20	A

21	C
22	A
23	C
24	B
25	A
26	B
27	C
28	C
29	A
30	B























QUESTIONARIO: 5

COMUNE DI PADOVA

ISTRUTTORE AMMINISTRATIVO

Carlo Bagatini

QUESTIONARIO 6

- 001. A norma del disposto di cui all'art. 48, Tuel, l'adozione dei regolamenti sull'ordinamento degli uffici e dei servizi dell'amministrazione comunale è attribuita:**
 A) Al segretario comunale, nel rispetto dei criteri generali stabiliti dallo statuto.
 B) Alla giunta comunale, nel rispetto dei criteri generali stabiliti dal consiglio.
 C) Al consiglio comunale, nel rispetto dei criteri generali stabiliti dal sindaco.
- 002. La dichiarazione sostitutiva di certificazione di cui all'art. 46 del D.P.R. 445/2000 è:**
 A) L'attestazione, da parte di un pubblico ufficiale, che la sottoscrizione è stata apposta in sua presenza, previo accertamento dell'identità della persona che sottoscrive.
 B) L'attestazione ufficiale della legale qualità di chi ha apposto la propria firma sopra atti, certificati, copie ed estratti.
 C) Il documento, sottoscritto dall'interessato, prodotto in sostituzione del certificato.
- 003. Chi può esperire accertamenti tecnici ed ispezioni ed ordinare esibizioni documentali al fine del procedimento amministrativo (comma 1, lett. b), art. 6 l. n. 241/1990)?**
 A) L'organo di governo dell'Amministrazione.
 B) L'organo di indirizzo politico-amministrativo dell'Amministrazione.
 C) Il responsabile del procedimento.
- 004. Quale dei servizi indicati è compito del Comune per servizi di competenza statale (art. 14 Tuel)?**
 A) Servizi per il turismo. B) Servizi anagrafe e statistica. C) Mercati e commercio.
- 005. L'art. 5 del D.Lgs. n. 33/2013, dispone che il procedimento di accesso civico deve concludersi:**
 A) Entro 60 giorni dalla presentazione dell'istanza.
 B) Con provvedimento non motivato.
 C) Entro 30 giorni dalla presentazione dell'istanza.
- 006. Quali sono le fasi di gestione della spesa delle Amministrazioni comunali oltre all'impegno (art. 182, Tuel)?**
 A) Accertamento, riscossione e versamento.
 B) Liquidazione, ordinazione e pagamento.
 C) Ordinazione e versamento.
- 007. A norma di quanto prevede l'art. 28 del CCNL del comparto Funzioni locali, le ferie del dipendente sono monetizzabili?**
 A) Sì, sono monetizzabili.
 B) No, non sono monetizzabili.
 C) Possono essere monetizzate solo su richiesta del dipendente.
- 008. L'affidamento e l'esecuzione di lavori, servizi e forniture devono avvenire secondo i principi enunciati all'art. 30 del Codice dei contratti pubblici. In applicazione di quale principio le stazioni appaltanti devono garantire l'esigenza di non dilatare la durata del procedimento di selezione del contraente in assenza di obiettive ragioni?**
 A) In applicazione del principio di rotazione degli inviti e degli affidamenti.
 B) In applicazione del principio di tempestività.
 C) In applicazione del principio di libera concorrenza.
- 009. "Disco rigido" sta a "...?" come "programma" sta a "...?".**
 A) Cursore - Software. B) Hardware - Software. C) Istruzioni - Computer.
- 010. Please, hurry up! I have to call Jim _____ 5 o'clock.**
 A) From. B) To. C) By.
- 011. 1) Merlino è appassionato di scacchi. 2) Alcuni appassionati di scacchi sono damisti. 3) I damisti non amano giocare d'azzardo. Se le precedenti affermazioni sono vere, quale delle seguenti è sicuramente vera?**
 A) Merlino è sicuramente un damista.
 B) Merlino non ama sicuramente giocare d'azzardo.
 C) Merlino potrebbe essere un damista.
- 012. Completare la seguente proporzione: Y (aristocrazia) : X (governo di nobili) = Y (...?...): X (...?...).**
 A) Y (plutocrazia) : X (sistema politico di gruppi che detengono la ricchezza).
 B) Y (plutocrazia) : X (governo di cittadini).
 C) Y (plutocrazia) : X (potere nelle mani di pochi).
- 013. In Microsoft Word, è possibile riordinare una tabella inserita in un documento di testo?**
 A) Sì, occorre selezionare la tabella, quindi scegliere Ordina dal menù Tabella.
 B) Se si vuole ordinare la tabella bisogna prima copiarla in Excel, ordinarla e successivamente ricopiarla in Word.
 C) No, la Tabella è un elemento statico e non è possibile riordinarla.
- 014. Individuare tra i seguenti il sillogismo che conduce ad una falsa conclusione.**
 A) Se canti bene allora hai attitudine musicale. Rebecca ha attitudine musicale quindi canta bene.
 B) Se cucini bene allora ti piace anche mangiare. Francesca cucina bene quindi le piace anche mangiare.
 C) Se balli bene allora sei coordinato. Dario balla bene quindi è coordinato.
- 015. Individuare la figura che completa logicamente la griglia.**
- | | | | |
|--|---|---|---|
|  |  |  |  |
|  |  |  |  |
| |  |  |  |
| | |  |  |
- | | | |
|---|---|---|
|  A |  B |  C |
|   |   |   |
- A) Figura C. B) Figura B. C) Figura A.

016. Oggi a Ne la temperatura è 9,5°. A Drò il termometro segna 4 gradi in più rispetto a Ne. Ad Acri il termometro segna 9 gradi in meno rispetto a Drò. A Blera il termometro segna 8 gradi in più rispetto ad Acri. Qual è la temperatura oggi a Blera?

- A) 12,5°. B) 13,5°. C) 11,5°.

017. Choose the correct option to complete the following sentence: _____ that movie? It's a really good one!

- A) Have you ever watched. B) Did you watch. C) Haven't watched you already.

018. Ad un tavolo tondo siedono: Boris, Remo, Isa, Maia, Mino e Grace. Ogni uomo siede tra due donne. Se Maia non è accanto a Mino e Isa è tra Boris e Mino, di conseguenza Remo:

- A) Forse è tra Isa e Maia. B) Di certo è accanto a Maia. C) Non siede accanto a Maia.

019. Calcolare il numero che diviso per 17 e sommato a 13 è uguale a 32.

- A) 324. B) 323. C) 322.

020. In Microsoft Excel versione italiana, volendo estrarre la stringa iniziale di una cella, bisogna utilizzare la funzione:

- A) "Sinistra". B) "Cella.inizio". C) "Inizio.testo".

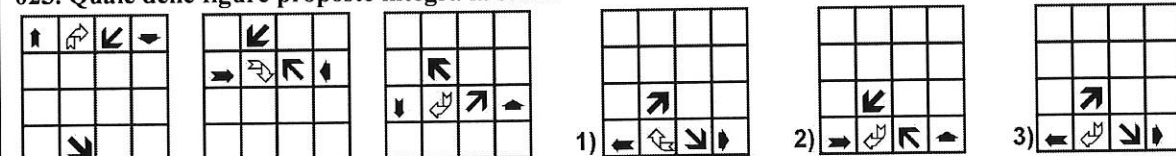
021. Quale dei seguenti numeri eliminerebbe? 43 - 147 - 294 - 231 - 175.

- A) 147. B) 294. C) 43.

022. Una collezione di monete della Repubblica Italiana è composta complessivamente da 132 pezzi, 22 per ogni espositore. 11 pezzi di ogni espositore sono bimetallici ed hanno taglio da 1000 lire, i restanti pezzi sono d'argento ed hanno taglio da 500 lire. Quante monete con taglio da 500 lire contiene la collezione?

- A) 68. B) 67. C) 66.

023. Quale delle figure proposte integra la serie?

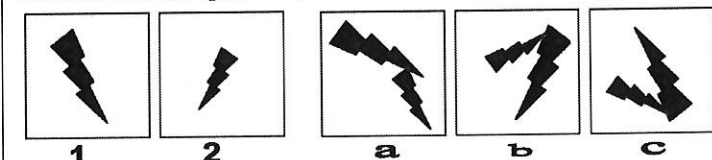


- A) La figura 1). B) La figura 2). C) La figura 3).

024. Quale dei seguenti termini può sostituire la parola "invirecondo" senza modificare il significato della frase ove essa è inserita?

- A) Vacuo. B) Impudente. C) Indifferente.

025. Indicare in quale riquadro sono contenute le figure 1 e 2 dopo essere state ruotate e sovrapposte.



- A) Riquadro b. B) Riquadro a. C) Riquadro c.

026. Indicare quale gruppo di lettere, premesso in sequenza ai termini proposti, determina parole di senso compiuto.

- A) B - S - G - G - Z. B) G - S - L - R - D. C) G - C - S - P - S.

027. "Mallo" sta a "Noce" come "...?" sta a "...?"

- A) Faggio - Guscio. B) Riccio - Castagna. C) Castagna - Buccia.

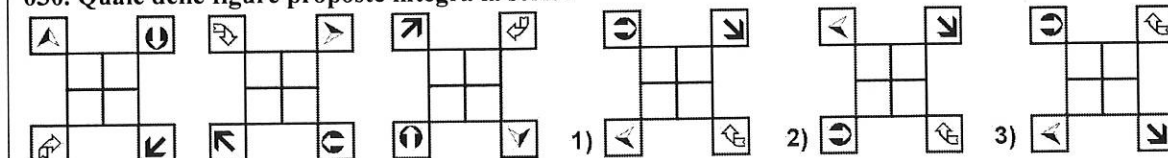
028. Mettere tra parentesi la parola che assume un significato che può essere ricondotto per analogia sia al termine che precede che a quello che segue:

- Vivanda (?) Posta.
A) Pietanza. B) Banco. C) Piatto.

029. Il giglio non va d'accordo con il bucaneve, ma va d'accordo con il girasole. Il bucaneve non va d'accordo con il girasole. Il girasole va d'accordo con il ciclamino ma non con il bucaneve. Il ciclamino va d'accordo con il giglio ma non con il tulipano. Tra i tre fiori di seguito proposti:

- A) Il bucaneve è quello che va d'accordo con il maggior numero di fiori rispetto agli altri.
B) Il tulipano è quello che va d'accordo con il maggior numero di fiori rispetto agli altri.
C) Il girasole è quello che va d'accordo con il maggior numero di fiori rispetto agli altri.

030. Quale delle figure proposte integra la serie?



- A) La figura 1). B) La figura 3). C) La figura 2).

COMUNE DI PADOVA

ISTRUTTORE AMMINISTRATIVO

GRIGLIA RISPOSTE ESATTE: QUESTIONARIO: 6

1	B
2	C
3	C
4	B
5	C
6	B
7	B
8	B
9	B
10	C

11	C
12	A
13	A
14	A
15	B
16	A
17	A
18	B
19	B
20	A

21	C
22	C
23	A
24	B
25	C
26	B
27	B
28	C
29	C
30	A

QUESTIONARIO: 6

